

D22. Un tappetino rettangolare ha l'area di circa $6\,000\text{ cm}^2$. Un lato misura 81 cm . Quale tra le seguenti rappresenta una stima corretta della misura dell'altro lato?

- A. Tra 50 cm e 60 cm
- B. Tra 60 cm e 70 cm
- C. Tra 70 cm e 80 cm
- D. Tra 80 cm e 90 cm

D10. Giorgio inizia gli allenamenti di pallavolo alle 16:30.

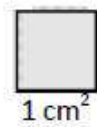
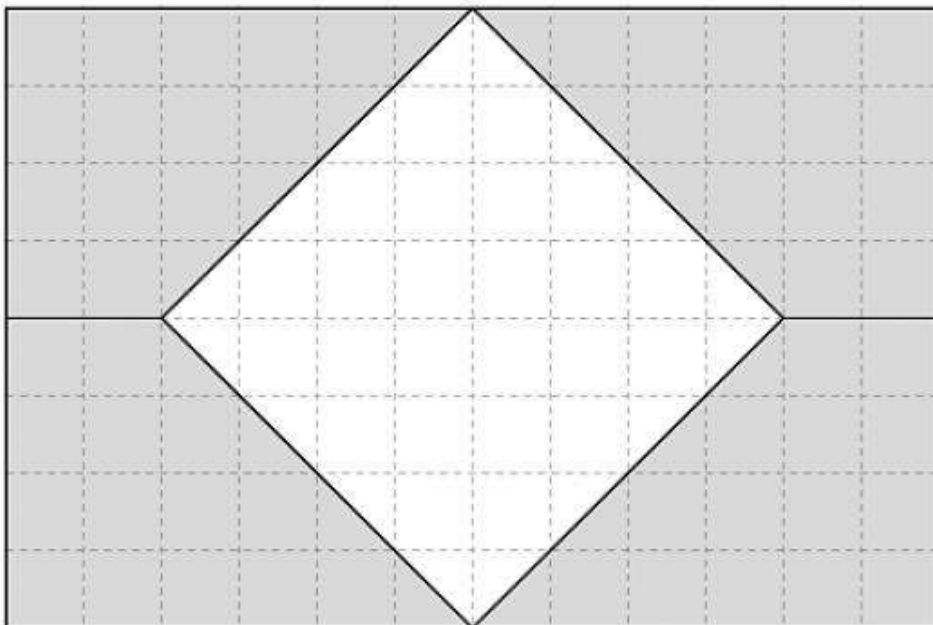


Quando finisce il riscaldamento l'orologio segna le 16:45.

Durante questo intervallo di tempo la lancetta dei minuti ha ruotato descrivendo un angolo

- A. acuto
- B. retto
- C. ottuso
- D. piatto

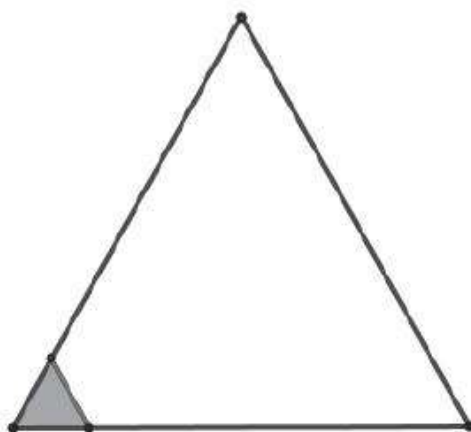
D7. Osserva la figura.



Quanto misura, in centimetri quadrati, la superficie del quadrato bianco?

Risposta: cm²

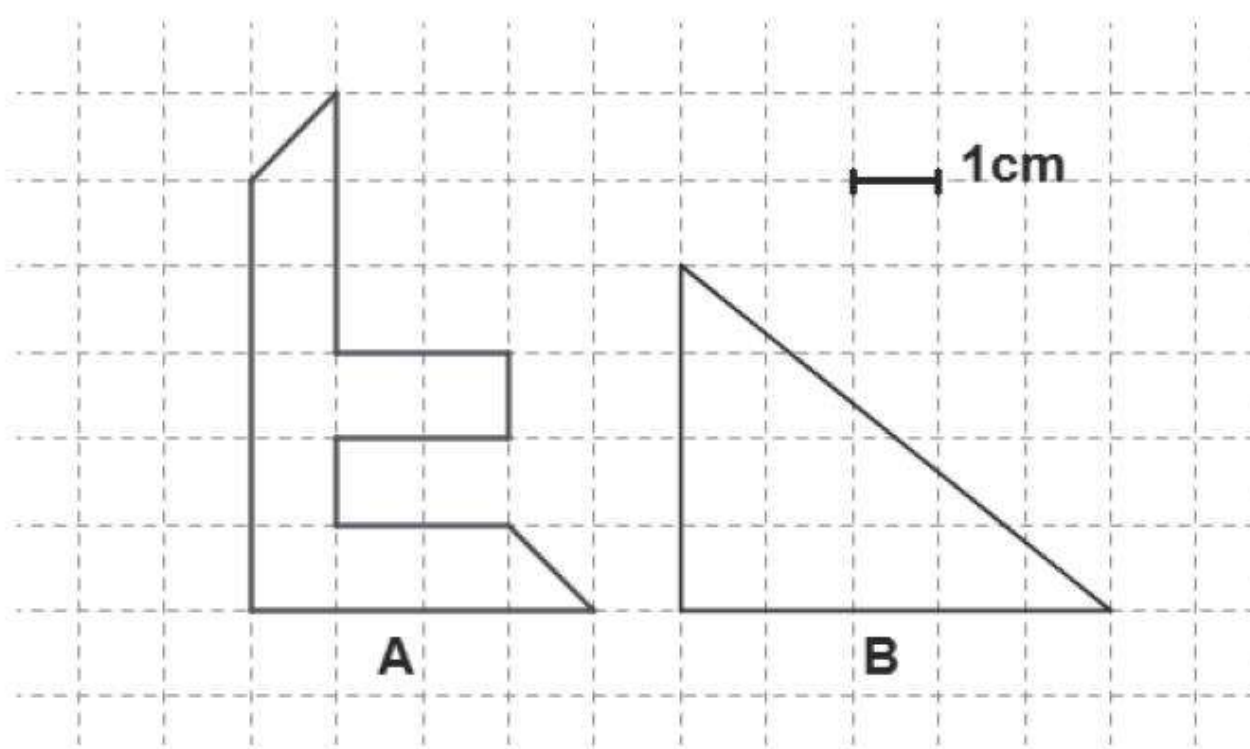
D27. Luigi deve ricoprire un triangolo equilatero di lato 6 cm con tessere anch'esse a forma di triangolo equilatero di lato 1 cm. Nella figura che vedi qui sotto è stata disegnata una tessera.



Di quante tessere ha bisogno in tutto?

- A. 6
- B. 18
- C. 36
- D. 48

D16. Osserva i seguenti poligoni.



a. L'area di A misura cm^2 .

b. L'area di B misura cm^2 .